



Freckle

epic!



Bienvenidos a las matemáticas con la Srta. Kerensa. Por favor ten tu cuaderno de matemáticas listo para nuestra lección de hoy.



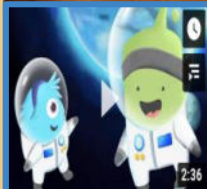
10:45





Freckle

epic!



2:36



2:58

Tomaremos algunas notas!



10:45

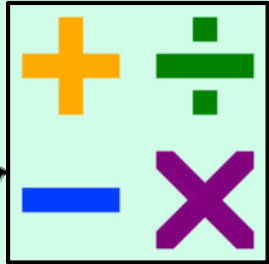


## English Directions

## Direcciones en Español




Clicking on this box will take you to the assignment so that you can see the questions larger.



Al hacer clic en este cuadro te llevará a la tarea para que puedas ver las preguntas más grandes.

If you are in Mrs. Rooke's Homeroom, use this button to get to your math assignment.



Si estás en el salón principal de la Sra. Rooke, usa este botón para acceder a su tarea de matemáticas.



9/12/2020

View online: (Spanish) Bridges in Mathematics Grade 3 - Student Book | Bridges Educator Site

Unit 1 Module 1 | Session 1

NOMBRE \_\_\_\_\_

FECHA \_\_\_\_\_



### Encuesta de vacaciones de verano, Parte 1

Samir y Sophia entrevistaron a diferentes compañeros para saber qué hicieron durante las vacaciones de verano. Lee cada una pregunta cuidadosamente para saber lo que dijeron sus compañeros. Luego, responde cada pregunta con palabras, dibujos o números. Muestra tu trabajo.



1 Catorce de las personas que Samir entrevistó fueron a nadar y 9 de las personas que Sophia entrevistó fueron a nadar. ¿Cuántos de los compañeros de Samir y Sophia fueron a nadar?



2 Ocho de las personas que Sophia entrevistó fueron a un campamento de verano y 13 de las personas que Samir entrevistó fueron al campamento de verano. ¿Cuántas personas fueron al campamento de verano?



3 Nueve de las personas que fueron al campamento de verano fueron a un campamento donde pasaron la noche, el resto fueron al campamento de día. ¿Cuántas personas fueron al campamento de día? (Pista: Deberás usar la respuesta a la pregunta 2).



4 Samir y Sophia se enteraron que 17 de sus compañeros fueron a la biblioteca durante las vacaciones de verano. Samir entrevistó a 8 de esas 17 personas. ¿A cuántas de esas personas entrevistó Sophia?



5 Encuentra cada suma o diferencia.

$7 + 15 = \underline{\quad}$     $3 + 8 = \underline{\quad}$     $12 - 7 = \underline{\quad}$     $16 - 8 = \underline{\quad}$

Bridges in Mathematics Grade 3 Student Book

1

© The Math Learning Center | mathlearningcenter.org

<https://bridges.inmathlearningcenter.org/view/3-4b-a87>



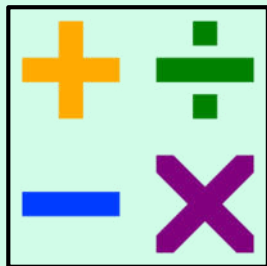
## English Directions



## Direcciones en Español




Clicking on this box will take you to the assignment so that you can see the questions larger.



El hacer clic en este cuadro te llevará a la tarea para que puedas ver las preguntas más grandes.

If you are in Mrs. Rooke's Homeroom, use this button to get to your math assignment.



Si estás en el salón principal de la Sra. Rooke, usa este botón para acceder a su tarea de matemáticas.

¡Eche un vistazo a la próxima tarea!  
Peek at the next assignment!

9/12/2020

View online: (Spanish) Bridges in Mathematics Grade 3 - Student Book | Bridges Educator Site

Unit 1 Module 1 | Session 2

NOMBRE \_\_\_\_\_

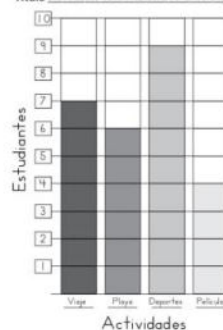
FECHA \_\_\_\_\_

### Encuesta de vacaciones de verano, Parte 2

Samir y Sophia entrevistaron a sus compañeros acerca de sus actividades favoritas del verano. Pusieron los resultados en un gráfico de barras. Utiliza el gráfico de barras para responder las siguientes preguntas. Usa palabras, dibujos o números para mostrar tu trabajo.

- 1 ¿A cuántas personas les gusta más ir a la playa? \_\_\_\_\_
- 2 ¿A cuántas personas les gusta más salir de viaje? \_\_\_\_\_
- 3 A nueve personas les gustó practicar un deporte de verano y a 4 personas les gustó ir al cine. ¿A cuántas personas más les gustó practicar un deporte de verano que ir al cine?

Título Actividades favoritas durante el verano



- 4 ¿A cuántas personas entrevistaron Sophia y Samir en total? ¿Cómo lo sabes?

- 5 Encuentra cada suma o diferencia.

$14 - 5 =$  \_\_\_\_\_  $13 + 5 =$  \_\_\_\_\_  $15 - 10 =$  \_\_\_\_\_  $9 + 8 =$  \_\_\_\_\_

Es hora del almuerzo. Haga clic en el enlace del video a las 11:45 para configurar su temporizador. Cuando termina el temporizador, a las 12:15, es hora de ir a la Sra. Rooke. Haga clic en el enlace de abajo para unirse a su junta.



Tercero/Third  
Mrs. Rooke  
12:15



It's lunch time! Click on the video at 11:45 to set your timer, when the timer ends at 12:15, it's time to go to Mrs. Rooke. Click on the meet icon below to join her meeting.



Tercero/Third  
Mrs. Rooke  
12:15

