



Unidad 7

Figuras sólidas por todas partes



Lección 8

Comparemos pesos

Objetivo de aprendizaje


Descifremos cuál objeto es más pesado y cuál objeto es más liviano.

K



¿Qué observas?

¿Qué te preguntas?



- Digan algunas cosas que sean pesadas?
- Digan algunas cosas que sean liviana?

- ¿Qué observan? ¿Qué se preguntan?
- ¿Cuál caja creen que es más pesada? ¿Por qué piensan eso?
- ¿Cómo pueden descifrar cuál caja es más pesada?
- Usamos las palabras 'más pesado que' y 'más liviano que' cuando comparamos el peso de los objetos. Háblenle a su pareja sobre las cajas usando las palabras 'más liviana que'.

Aquí hay dos bolsas, pero no podemos ver qué hay adentro. ¿Cuál bolsa es más pesada?

¿Cómo podemos descifrar cuál bolsa es más pesada?

Ahora que todos sentimos las bolsas, ¿cuál bolsa es más pesada?

Háblenle a su pareja sobre las bolsas usando las palabras 'más liviana que'

Podemos sostener objetos en nuestras manos para descubrir cuál objeto se siente más pesado y cuál se siente más liviano

Escoge 2 objetos.

Descifra cuál objeto es más pesado y cuál objeto es más liviano.


Dibuja cada objeto.

Marca el objeto más pesado.

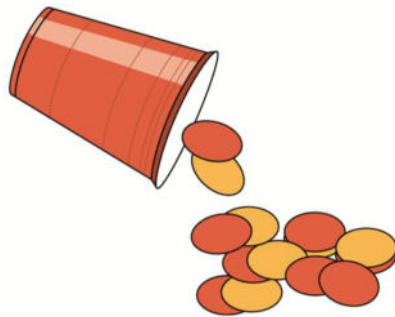
Compartamos algunas de sus comparaciones.

Escoge un centro.


Contar colecciones



Revuelve y saca



Haz una como la mía




Hemos aprendido diferentes formas de jugar 'Revuelve y saca'. ¿Cuál forma de jugar 'Revuelve y saca' les gusta?
¿Por qué?

Han dice que los lápices son mas pesados que la silla porque hay 5 lápices y solo 1 silla. ¿Qué piensan sobre esto?

¿Qué puede hacer Han que le ayude a descifrar si la silla es más pesada o los lápices son más pesados?

¿Cuál es más liviano: tu cuaderno de trabajo o tu lápiz?

Marca el que sea más liviano.



This slide deck is copyright 2021 by Kendall Hunt Publishing, <https://im.kendallhunt.com/>, and is licensed under the Creative Commons Attribution-NonCommercial 4.0 International License ([CC BY-NC 4.0](https://creativecommons.org/licenses/by-nc/4.0/)).

All curriculum excerpts are under the following licenses:

IM K–5 Math™ is copyright 2021 by Illustrative Mathematics®. It is licensed under the Creative Commons Attribution 4.0 International License ([CC BY 4.0](https://creativecommons.org/licenses/by/4.0/)).

This material includes public domain images or openly licensed images that are copyrighted by their respective owners. Openly licensed images remain under the terms of their respective licenses. See the image attribution section for more information.

The Illustrative Mathematics® name and logo are not subject to the Creative Commons license and may not be used without the prior and express written consent of Illustrative Mathematics®.